

የአንደኛ ክፍል ሂሳብ

ምዕራፍ 1 ክፍለ ትምህርት 5 መለማመጃ

[የክፍለ ትምህርት አለማ](#)

[ምሳሌዎች](#)

[ልምምድ](#)

[ሙከራ](#)



የክፍለ ትምህርቱ አለማ


ከዚህ ትምህርት መጨረሻ ተማሪዎች ከ 1 እስከ 5 ያሉትን ቁጥሮች ያወዳድራሉ።

<https://drnegaeducationcenter.org/>

ምሳሌ



ምሳሌ 1:-ትልቁን ቁጥር ምረጡ።የቱ በቁጥር ይበልጣል?




ሀ

ለ

መልስ:-ሀ

(2) ትንሹን ቁጥር ምረጡ።የቱ በቁጥር ያንሳል?



ሀ

ለ


መልስ:-ሀ

ቀጣይ ምሳሌ



ምሳሌ 2:-

(1) ትልቁን ቁጥር ምረጡ። የቱ በቁጥር ይበልጣል?




ሀ

ለ

መልስ:-ሀ

(2) ትንሹን ቁጥር ምረጡ። የቱ በቁጥር ያንሳል?



ሀ

ለ

መልስ:-ለ


ልምምድ ለመጀመር ከታች ያለውን ሊንክ ይጫኑ።

[ጀምር](https://drnegaeducationcenter.org/)



ልምምድ 1.1

(1) ትልቁን ቁጥር ምረጡ። የቱ በቁጥር ይበልጣል?



ሀ

ለ




በትክክል ተመልካለሁ። ወደ ቀጣይ ጥያቄ ይለኩ

<https://drnegaeducationcenter.org/>



በትክክል አልተመለሰም። እንደገና ይሞክሩ

ይህ ምስል


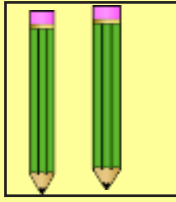


ውስጥ ያለው ከረጫ ላ በቁጥር ይበልጣል።

<https://drnegaeducationcenter.org/>



(2) ትንሹን ቁጥር ምረጡ። የቱ በቁጥር ያንሳል?



ሀ

ለ




በትክክል ተመልሷል። ወደ ቀጠላ ጥያቄ ይለኩ

<https://drnegaeducationcenter.org/>



በትክክል አልተመለሰም። እንደገና ይሞክሩ

ይህ ምስል

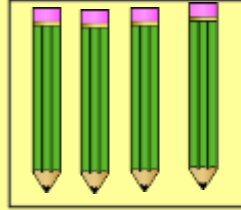



ውስጥ ያለው ከረጫ ላ በቁጥር ይበልጣል።



ልምምድ 1.2

(1) ትልቁን ቁጥር ምረጡ። የቱ በቁጥር ይበልጣል?



U

A



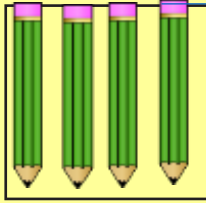
በትክክል ተመልሷል። ወደ ቀጣይ ጥያቄ ይለኩ

<https://drnegaeducationcenter.org/>



በትክክል አልተመለሰም። እንደገና ይሞክሩ

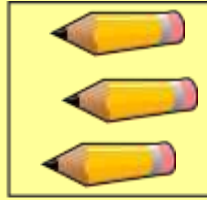

ይህ ምስል



ውስጥ ያለው እርሳስ በቁጥር ያንሳል።



(2) ትንሹን ቁጥር ምረጡ። የቱ በቁጥር ያንሳል?



ሀ

ለ




በትክክል ተመልሷል። ወደ ቀጣይ ጥያቄ ይለኩ

<https://drnegaeducationcenter.org/>



በትክክል አልተመለሰም። እንደገና ይሞክሩ

ይህ ምስል




ውስጥ ያለው ከረጫ ላ በቁጥር ይበልጣል።



ልምምድ 1.3

(i) ትልቁን ቁጥር ምረጡ። የቱ በቁጥር ይበልጣል?



U



A



በትክክል ተመልሷል። [ወደ ቀጠይ ጥያቄ ይለኩ](#)

<https://drnegaeducationcenter.org/>



በትክክል አልተመለሰም። [እንደገና ይሞክሩ](#)

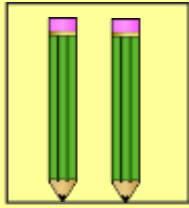
ይህ ምስል




ውስጥ ያለው እርሳስ በቁጥር ያንሳል



(2) ትንሹን ቁጥር ምረጡ። የቱ በቁጥር ያንሳል?



ሀ



ለ




በትክክል ተመልሷል። ወደ ቀጣይ ጥያቄ ይለኩ

<https://drnegaeducationcenter.org/>



በትክክል አልተመለሰም። እንደገና ይሞክሩ

ይህ ምስል




ውስጥ ያለው ከረጫላ በቁጥር ይበልጣል።



ልምምድ 1.4

(1) ትልቁን ቁጥር ምረጡ። የቱ በቁጥር ይበልጣል?



ሀ

ለ



በትክክል ተመልሷል። ወደ ቀጣይ ጥያቄ ይለኩ

<https://drnegaeducationcenter.org/>



በትክክል አልተመለሰም። እንደገና ይሞክሩ

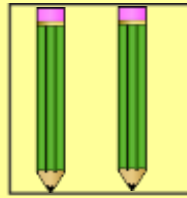

ይህ ምስል



ውስጥ ያለው እርሳስ በቁጥር ያንሳል።



(2) ትንሹን ቁጥር ምረጡ። የቱ በቁጥር ያንሳል?



U

፲




በትክክል ተመልሷል። ወደ ቀጣይ ጥያቄ ይለኩ

<https://drnegaeducationcenter.org/>



በትክክል አልተመለሰም። እንደገና ይሞክሩ

ይህ ምስል

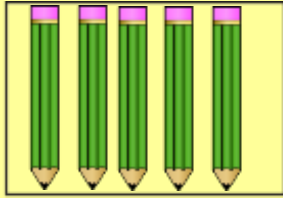


ውስጥ ያለው ከረሜላ በቁጥር ይበልጣል።



ልምምድ 1.5

(1) ትልቁን ቁጥር ምረጡ። የቱ በቁጥር ይበልጣል?



U



A



በትክክል ተመልሷል። ወደ ቀጠላ ጥያቄ ይለኩ

<https://drnegaeducationcenter.org/>



በትክክል አልተመለሰም። እንደገና ይሞክሩ


ይህ ምስል



ውስጥ ያለው ከረሜላ በቁጥር ያንሳል።



(2) ትንሹን ቁጥር ምረጡ። የቱ በቁጥር ያንሳል?



4

2




በትክክል ተመልሷል። ወደ ቀጣይ ጥያቄ ይለኩ

<https://drnegaeducationcenter.org/>



በትክክል አልተመለሰም። እንደገና ይሞክሩ

ይህ ምስል




ውስጥ ያለው እርሳስ በቁጥር ይበልጣል።



ልምምድ 1.6

(1) ትልቁን ቁጥር ምረጡ። የቱ በቁጥር ይበልጣል?



ሀ

ለ



በትክክል ተመልሷል። ወደ ቀጣይ ጥያቄ ይለኩ

<https://drnegaeducationcenter.org/>




በትክክል አልተመለሰም። [እንደገና ይሞክሩ](#)

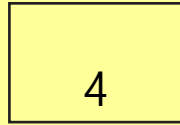
3 ቁጥር ምስሉ ላይ ካለው እርሳስ ያንሳል።



(2) ትንሹን ቁጥር ምረጡ። የቱ በቁጥር ያንሳል?



ሀ



ለ



በትክክል ተመልሷል። ወደ ቀጠላ ጥያቄ ይለኩ

<https://drnegaeducationcenter.org/>




በትክክል አልተመለሰም። [እንደገና ይሞክሩ](#)

4 ቁጥር ምስሉ ውስጥ ካለው ከረጅሙ ቁጥር ይበልጣል።



ልምምድ 1.7

(1) ትልቁን ቁጥር ምረጡ። የቱ በቁጥር ይበልጣል?



U

Λ



በትክክል ተመልሷል። ወደ ቀጣይ ጥያቄ ይለኩ

<https://drnegaeducationcenter.org/>



በትክክል አልተመለሰም። እንደገና ይሞክሩ


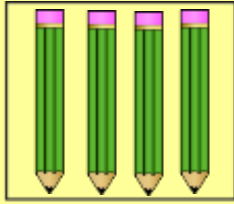
ይህ ምስል



ውስጥ ያለው ከረጫላ ከ 5 ቁጥር ያንሳል።



(2) ትንሹን ቁጥር ምረጡ። የቱ በቁጥር ያንሳል?



ሀ

ለ



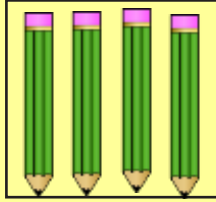
በትክክል ተመልሷል። ወደ ቀጠላ ጥያቄ ይለኩ

<https://drnegaeducationcenter.org/>



በትክክል አልተመለሰም። እንደገና ይሞክሩ

ይህምስል



ውስጥ ያለው እርሳስ ከ 3 ቁጥር ይበልጣል።



ልምምድ 1.8

(1) ትልቁን ቁጥር ምረጡ። የቱ በቁጥር ይበልጣል?



3



2




በትክክል ተመልሷል። ወደ ቀጣይ ጥያቄ ይለኩ

<https://drnegaeducationcenter.org/>



በትክክል አልተመለሰም። እንደገና ይሞክሩ

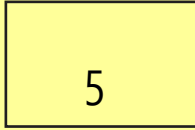
ይህ ምስል



ውስጥ ያለው እርሳስ ከ 3 ቁጥር ያንሳል።



(2) ትንሹን ቁጥር ምረጡ። የቱ በቁጥር ያንሳል?



5

4



በትክክል ተመልሷል። ወደ ቀጣይ ጥያቄ ይለኩ

<https://drnegaeducationcenter.org/>



በትክክል ተመልሷል። [እንደገና ይሞክሩ](#)

5 ቁጥር ምስሉ ውስጥ ካለው ከረጫ ላይ ቁጥር ይበልጣል።



ልምምድ 1.9

(1) ትልቁን ቁጥር ምረጡ። የቱ በቁጥር ይበልጣል?



ሀ



ለ



በትክክል ተመልሷል። ወደ ቀጣይ ጥያቄ ይለኩ

<https://drnegaeducationcenter.org/>



በትክክል አልተመለሰም። እንደገና ይሞክሩ


ይህ ምስል



ውስጥ ያለው ከረሜላ በቁጥር ያንሳል።



(2) ትንሹን ቁጥር ምረጡ። የቱ በቁጥር ያንሳል?



U



ሀ



በትክክል ተመልሷል። ወደ ቀጣይ ጥያቄ ይለኩ

<https://drnegaeducationcenter.org/>



በትክክል አልተመለሰም። እንደገና ይሞክሩ

ይህ ምስል



ውስጥ ያለው ከረሜላ በቁጥር ይበልጣል።




ልምምድ 1.10

(1) ትልቁን ቁጥር ምረጡ። የቱ በቁጥር ይበልጣል?



ሀ



ለ



በትክክል ተመልሷል። ወደ ቀጣይ ጥያቄ ይለኩ

<https://drnegaeducationcenter.org/>



በትክክል አልተመለሰም። እንደገና ይሞክሩ


ይህ ምስል



ውስጥ ያለው እርሳስ በቁጥር ያንሳል።



(2) ትንሹን ቁጥር ምረጡ። የቱ ቁጥር ያንሳል?



U



A



በትክክል ተመልሷል። ወደ ቀጠላ ጥያቄ ይለኩ

<https://drnegaeducationcenter.org/>



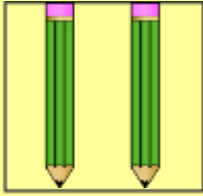
በትክክል አልተመለሰም። [እንደገና ይሞክሩ](#)

5 ቁጥር ምስል ውስጥ ካለው እርሳስ ቁጥር ይበልጣል።



ልምምድ 1.11

(1) ትልቁን ቁጥር ምረጡ። የቱ በቁጥር ይበልጣል።



ሀ



ለ



በትክክል ተመልሷል። ወደ ቀጠላ ጥያቄ ይለኩ

<https://drnegaeducationcenter.org/>



በትክክል አልተመለሰም። እንደገና ይሞክሩ

ይህ ምስል



ውስጥ ያለው ከረሜላ በቁጥር ያንሳል።



(2) ትንሹን ቁጥር ምረጡ። የቱ ቁጥር ያንሳል?

5

U

0

Λ



በትክክል ተመልሷል። ወደ ቀጠላ ጥያቄ ይለኩ

<https://drnegaeducationcenter.org/>



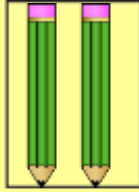
በትክክል አልተመለሰም። [እንደገና ይሞክሩ](#)

5 ቁጥር ከ 0 ይበልጣል።



ልምምድ 1.12

(1) ትልቁን ቁጥር ምረጡ። የቱ በቁጥር ይበልጣል?



U

A




በትክክል ተመልሷል። ወደ ቀጣይ ጥያቄ ይለኩ

<https://drnegaeducationcenter.org/>



በትክክል አልተመለሰም። እንደገና ይሞክሩ

ይህ ምስል



ውስጥ ያለው እርሳስ በቁጥር ያንሳል።



(2) ትንሹን ቁጥር ምረጡ። የቱ ቁጥር ያንሳል?



U



1



በትክክል ተመልሷል።

ወደ ቀጣዩ ክፍል ትምህርት ተሸጋግረዋል።



በትክክል አልተመለሰም። [እንደገና ይሞክሩ](#)

ይህ ምስል



ውስጥ ያለው ከረሜላ በቁጥር ይበልጣል።



<https://drnegaeducationcenter.org/>



<https://drnegaeducationcenter.org/>

