



የአንደኛ ክፍል ሂሳብ

ምዕራፍ 1 ክፍለ ትምህርት 4 መለማመጃ

[የክፍለ ትምህርት አላማ](#) [ምሳሌዎች](#) [ልምምድ](#) [ሙከራ](#)

የክፍለ ትምህርቱ አለማ

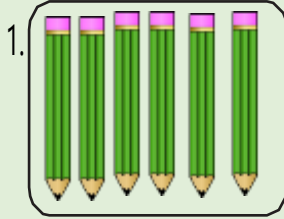
ከ 6 እስከ 9 ያሉትን ቁጥሮች መለዎት፣ መቁጠርና መጻፍ።

<https://drmegaeducationcenter.org/>

ምሳሌ

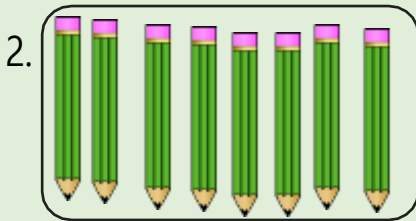


ምሳሌ 1:- ከ 6 እስከ 9 ያሉትን ቁጥሮች ምረጡ።



ሀ.8(ስምንት) ለ.6(ስድስት)

መልስ:- ለ (ስድስት)



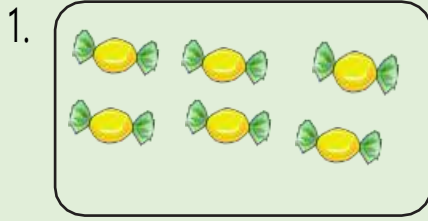
ሀ.8(ስምንት) ለ.9(ዘጠኝ)

መልስ:- ሀ (ስምንት)

ቀጣይ ምሳሌ

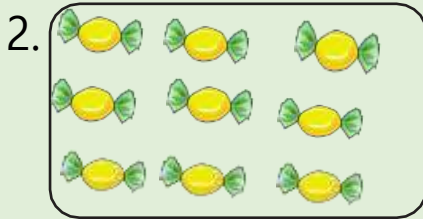


ምሳሌ 2:- ከ 6 እስከ 9 ያሉትን ቁጥሮች ምረጡ።



ሀ .7(ሰባት)

ለ .6(ስድስት)



ሀ .9(ዘጠኝ)

ለ .8(ስምንት)

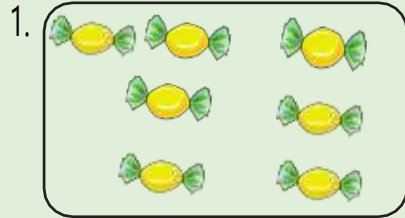
ልምምድ ለመጀመር ከታች ያለውን ሊንክ ይጫኑ።

[ጀምር](https://drnegaeducationcenter.org/)



ልምምድ 1.1

ከ 6 እስከ 9 ያሉትን ቁጥሮች ምረጡ።

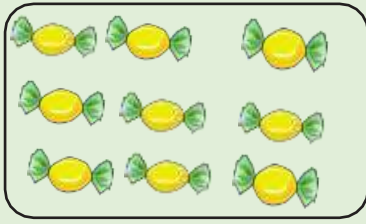


U.6

A.7



2.



U.8

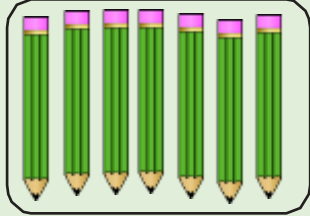
A.9



ልምምድ 1.2

ከ 6 እስከ 9 ያሉትን ቁጥሮች ምረጡ።

1.

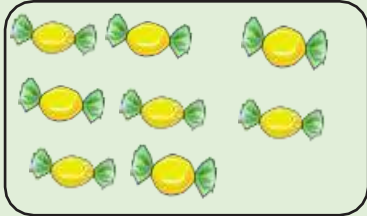


U.6

A.7



2.




U.8

A.7



ልምምድ 1.3

ከ 6 እስከ 9 ያሉትን ቁጥሮች ምረጡ።




U.6

A.9



2.




U.7

A.8



ልምምድ 1.4

ከ 6 እስከ 9 ያሉትን ቁጥሮች ምረጡ።

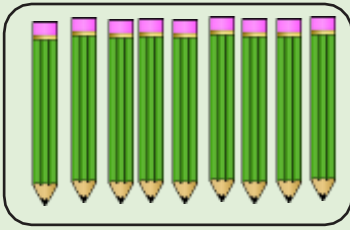


U.9

A.7



2.



U .8


A .9



ልምምድ 1.5

ከ 6 እስከ 9 ያሉትን ቁጥሮች ምረጡ።

1.




U.7

A.6



2.



U.8


A.7



ልምምድ 1.6

ከ 6 እስከ 9 ያሉትን ቁጥሮች ምረጡ።

1.

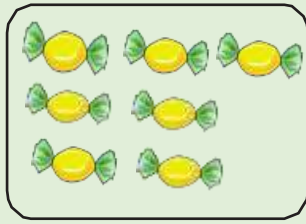


U.9

A.6



2.




U.8

A.7



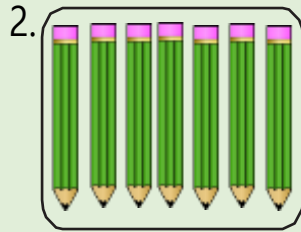
ልምምድ 1.7

ከ 6 እስከ 9 ያሉትን ቁጥሮች ምረጡ።



U.7 A.9





U .8

A .7



ልምምድ 1.8

ከ 6 እስከ 9 ያሉትን ቁጥሮች ምረጡ።

1. 9

U .ዘጠኝ A .ስድስት



2. 7
U.ስምንት A.ሰባት



ልምምድ 1.9

ከ 6 እስከ 9 ያሉትን ቁጥሮች ምረጡ።

1.

8

U.ስምንት

A.ዘጠኝ

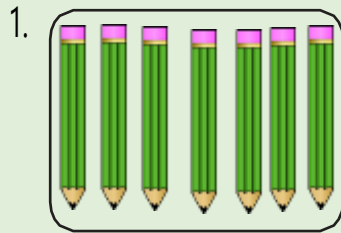


2. 6
ሀ.ሰባት ለ.ስድስት



ልምምድ 1.10

ከ 6 እስከ 9 ያሉትን ቁጥሮች ምረጡ።

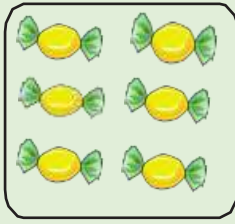


U.ሰባት

A.ዘጠኝ



2.




ሀ.ስምንት ለ.ስድስት



ልምምድ 1.11

ከ 6 እስከ 9 ያሉትን ቁጥሮች ምረጡ።

1.

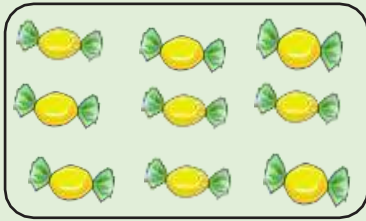


U. ሰባት

A. ስምንት



2.



ሀ. ስድስት



ለ. ዘጠኝ



ልምምድ 1.12


ከ 6 እስከ 9 ያሉትን ቁጥሮች ምረጡ።

1. 7




2. 8

ሀ



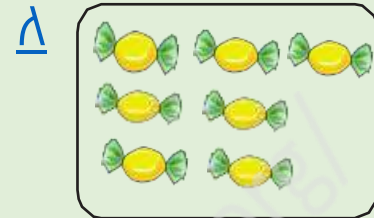
ለ



ልምምድ 1.13

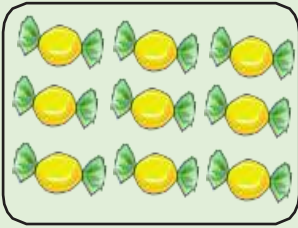
ከ 6 እስከ 9 ያሉትን ቁጥሮች ምረጡ።

1. ዘጠኝ

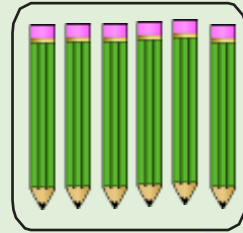


2 ስድስት

ሀ




ለ



በትክክል መልሰዋል። ወደ ቀጣይ ጥያቄ ይሂዱ።



በትክክል አልመለሱም። የስድስት ከረጫላ ብዛት ምስል ይህ ነው። እንደገና ይሞክሩ።



በትክክል መልሰዋል። ወደ ቀጠላ ጥያቄ ይሂዱ።



በትክክል አልመለሱም። የስምንት ከረጫላ ብዛት ምስል ይህ ነው።

እንደገና ይሞክሩ።

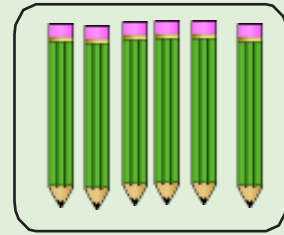


በትክክል መልሰዋል። ወደ ቀጣይ ጥያቄ ይሂዱ።



በትክክል አልመለሱም። የስድስት እርሳስ ብዛት ምስል ይህ ነው።

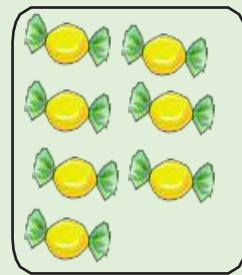
እንደገና ይሞክሩ።



በትክክል መልሰዋል። ወደ ቀጣይ ጥያቄ ይሂዱ።



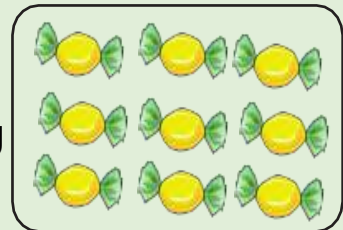
በትክክል አልመለሱም። የሰባት ከረጫ ለብዛት ምስል ይህ ነው። እንደገና ይሞክሩ።



በትክክል መልሰዋል። ወደ ቀጣይ ጥያቄ ይሂዱ።




በትክክል አልመለሱም። የዘጠኝ ከረጫ ላብዛት ምስል ይህ ነው። እንደገና ይሞክሩ።



በትክክል መልሰዋል። ወደ ቀጣይ ጥያቄ ይሂዱ።




በትክክል አልመለሱም። የሰባት እርሳስ ብዛት ምስል ይህ
ነው። እንደገና ይሞክሩ።



በትክክል መልሰዋል። ወደ ቀጣይ ጥያቄ ይሂዱ።




በትክክል አልመለሱም። የዘጠኝ እርሳስ ብዛት ምስል ይህ ነው። እንደገና ይሞክሩ።



በትክክል መልሰዋል። ወደ ቀጣይ ጥያቄ ይሂዱ።



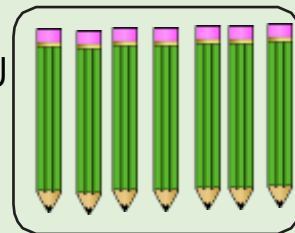
በትክክል አልመለሱም። የስምንት እርሳስ ብዛት ምስል ይህ ነው። እንደገና ይሞክሩ።



በትክክል ማለት። ወደ ቀጣይ ጥያቄ ይሂዱ።




በትክክል አልመለሱም። የሰበት እርሳስ ብዛት ምስል ይህ
ነው። [እንደገና ይሞክሩ](#)



በትክክል መልሰዋል። ወደ ቀጣይ ጥያቄ ይሂዱ።




በትክክል አልመለሱም። የሰባት እርሳስ ብዛት ምስል ይህ ነው። እንደገና ይሞክሩ።



በትክክል መልሰዋል። ወደ ቀጣይ ጥያቄ ይሂዱ።



በትክክል አልመለሱም። የዘጠኝ እርሳስ ብዛት ምስል ይህ ነው። እንደገና ይሞክሩ።




በትክክል መልሰዋል። ወደ ቀጣይ ጥያቄ ይሂዱ።



በትክክል አልመለሱም። የስምንት ከረጫላ ብዛት ምስል ይህ ነው።


እንደገና ይሞክሩ።



በትክክል መልሰዋል። ወደ ቀጠላ ጥያቄ ይሂዱ።



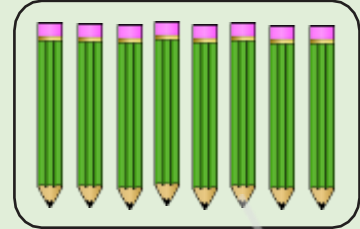
በትክክል አልመለሱም። የሰባት እርሳስ ብዛት ምስል ይህ ነው። እንደገና ይሞክሩ።



በትክክል መልሰዋል። ወደ ቀጣይ ጥያቄ ይሂዱ።



በትክክል አልመለሱም። የስምንት እርሳስ ብዛት ምስል ይህ ነው። እንደገና ይሞክሩ።



በትክክል መልሰዋል። ወደ ቀጣይ ጥያቄ ይሂዱ።



በትክክል አልመለሱም። ስድስት ይህ "6" ነው። [እንደገና ይሞክሩ](#)



በትክክል መልሰዋል። ወደ ቀጠላ ጥያቄ ይሂዱ።



በትክክል አልመለሱም። ስምንት ይህ "8" ነው። [እንደገና ይሞክሩ።](#)



በትክክል መልሰዋል። ወደ ቀጣይ ጥያቄ ይሂዱ።



በትክክል አልመለሱም። ዘጠኝ ይህ "9" ነው። እንደገና ይሞክሩ።



በትክክል መልሰዋል። ወደ ቀጣይ ጥያቄ ይሂዱ።




በትክክል አልመለሱም። ሰባት ይህ "7" ነው። እንደገና ይሞክሩ።



በትክክል ማሳየት። ወደ ቀጣይ ጥያቄ ይሂዱ።



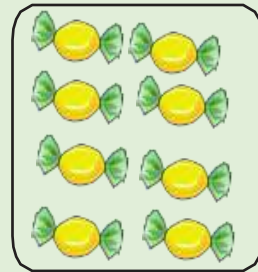
በትክክል አልመለሱም። ዘጠኝ እርሳስ ያለው ምስል ይህ ነው። እንደገና ይሞክሩ።



በትክክል መልሰዋል። ወደ ቀጣይ ጥያቄ ይሂዱ።




በትክክል አልመለሱም። ስምንት ከረጫ ለ ያለው ምስል ይህ ነው። እንደገና ይሞክሩ።



በትክክል መልሰዋል። ወደ ቀጣይ ጥያቄ ይሂዱ።



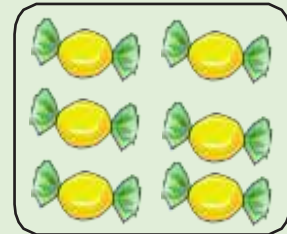
በትክክል አልመለሱም። ሰባት እርሳስ ያለው ምስል ይህ ነው። እንደገና ይሞክሩ።



በትክክል መልሰዋል። ወደ ቀጣይ ጥያቄ ይሂዱ።




በትክክል አልመለሱም። ስድስት ከረጫ ላይ ለው ምስል ይህ ነው። እንደገና ይሞክሩ።



በትክክል መልሰዋል። ወደ ቀጣይ ጥያቄ ይሂዱ።






በትክክል አልመለሱም። እዚህ ምስል
ውስጥ ያለው የእርሳስ ብዛት 9 ነው። እንደገና ይሞክሩ።



በትክክል መልሰዋል። ወደ ቀጣይ ጥያቄ ይሂዱ።



በትክክል አልመለሱም። እዚህ ምስል ብዛት 6 ነው። እንደገና ይሞክሩ።




ውስጥ ያለው የክረሜላ



በትክክል መልሰዋል። ወደ ቀጣይ ጥያቄ ይሂዱ።





በትክክል አልመለሱም። እዚህ ምስል የከረጫላ ብዛት ሰባት ነው።

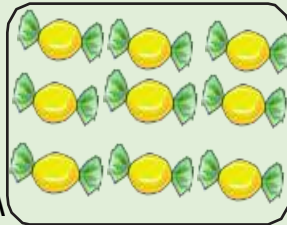
[እንደገና ይሞክሩ።](#)

ውስጥ ያለው



በትክክል መልሰዋል። ክፋለ ትምህርት አራትን በሚገባ አጠናቀዋል። ወደ ቀጣዩ ክፍለ ትምህርት ይልፉ።





በትክክል አልመለሱም። እዚህ ምስል ብዛት 9 ነው። እንደገና ይሞክሩ።

ውስጥ ያለው የከረሜላ

