



የአንደኛ ክፍል ሂሳብ

ምዕራፍ 1 ክፍለ ትምህርት 7 መለማመጃ

[የክፍለ ትምህርት አላማ](#) [ምሳሌዎች](#) [ልምምድ](#) [ሙከራ](#)

<https://dmrcenter.org/>

የክፍለ ትምህርቱ አለማ

ከዚህ ትምህርት መጨረሻ ተማሪዎች ከ 1 እስከ 5 ደረጃ ቁጥሮች ያነገሉ።

ምሳሌ



ምሳሌ 1:- ጎልቶ የሚታየው ቁጥር ስንት ነው?

1. 1 2 **3** 4 5

ሀ.አንድ ለ.ሶስት

መልስ:- (ለ) ሶስት

2. 5 4 3 **2** 1

ሀ.ሁለት ለ.አራት

መልስ:- (ሀ) ሁለት

ወደ ቀጣይ ምሳሌ



ምሳሌ 2:- ከአንድ እስከአምስት መቁጠር



1 2 3 4 5

አንድ ሁለት ሶስት አራት አምስት



5 4 3 2 1

አምስት አራት ሶስት ሁለት አንድ

ልምምድ ለመጀመር ከታች ያለውን ሊንክ ይጫኑ።

[ጀምር](https://drmegaeducationcenter.org/)



ልምምድ 1.1

ጎልቶ የሚታየው ቁጥር ስንት ነው?

1. 

1 2 3 4 5

(U) አምስት (A) ሶስት

<https://drmegaeducationcenter.org/>



2. 

5 4 3 2 1

(U) አምስት (A) ሶስት

<https://drmegaeducationcenter.org/>



ልምምድ 1.2

ጎልቶ የሚታየው ቁጥር ስንት ነው?

1.

አንድ ሁለት ሶስት አራት አምስት

(ሀ) 2

(ለ) 4

<https://drmegaeducationcenter.org/>



2. 

አንድ ሁለት ሶስት አራት አምስት

(ሀ) 1 (ለ) 2



ልምምድ 1.3

ጎልቶ የሚታየው ቁጥር ስንት ነው?

1. 

5 4 3 **2** 1

(U) ሁለት (A) ሶስት

<https://drmegaeducationcenter.org/>



2. 

5 4 3 2 1

(U) ሁለት (A) አራት

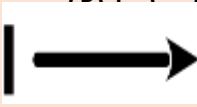
7

<https://drmegaeducationcenter.org/>



ልምምድ 1.4

ጎልቶ የሚታየው ቁጥር ስንት ነው?

1. 

አንድ ሁለት ሶስት አራት አምስት

(U) 4

(A) 3

<https://drnegaeducationcenter.org/>



2. 

አንድ ሁለት ሶስት አራት አምስት
(U) 4 (A) 2



ልምምድ 1.5

ጎልቶ የሚታየው ቁጥር ስንት ነው?

1. 

5 3 2 4 1

(U) አንድ

(A) ሶስት

<https://drmegaeducationcenter.org/>



2.



5 4 3 2 1

(U) አራት (A) ሁለት

9

<https://drmegaeducationcenter.org/>



ልምምድ 1.6

ጎልቶ የሚታየው ቁጥር ስንት ነው?

1. 

አንድ ሁለት ሶስት አራት አምስት

(U) 1 (A) 3



2. 

አንድ ሁለት ሶስት አራት አምስት

(U) 4 (A) 2

<https://drmegaeducationcenter.org/>



ልምምድ 1.7

ጎልቶ የሚታየው ቁጥር ስንት ነው?

1. 

5 4 3 2 1

(U) ሁለት

(A) አንድ

<https://drmegaeducationcenter.org/>



2.



5 4 3 2 1

(U) አምስት (A) አራት

11

ዩ1A7



ልምምድ 1.8

ጎልቶ የሚታየው ቁጥር ስንት ነው?

1. 

አንድ ሁለት ሶስት አራት አምስት

(U) 1 (A) 3

<https://drmegaeducationcenter.org/>



2. | →

አንድ ሁለት ሶስት አራት አምስት

(U) 4

(A) 2

12

የ1ሌ7ካ 1.9

<https://drmegaeducationcenter.org/>




ልምምድ 1.9

ትልቁን ቁጥር ምረጡ። የቱ በቁጥር ይበልጣል?

1.



ሀ




ለ

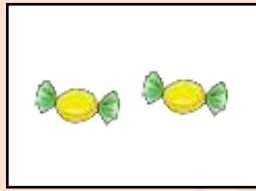


ትንሹን ቁጥር ምረጡ። የቱ በቁጥር ያንሳል?

2.



U




A




ልምምድ 1.10

ትልቁን ቁጥር ምረጡ። የቱ በቁጥር ይበልጣል?

(1)



፱




፲



ትንሹን ቁጥር ምረጡ። የቱ በቁጥር ያንሳል?

(2)



ሀ




ለ



ልምምድ 1.11

ትልቁን ቁጥር ምረጡ። የቱ በቁጥር ይበልጣል?

1.



U

1



ትንሹን ቁጥር ምረጡ። የቱ በቁጥር ያንሳል?

1.

U

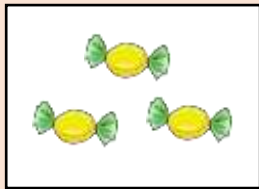
A




ልምምድ 1.12

ትልቁን ቁጥር ምረጡ። የትልቁን ቁጥር ይበልጣል?

(1)



U

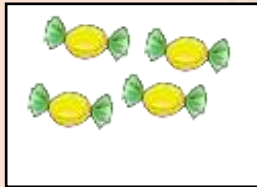


A



ትንሹን ቁጥር ምረጡ። የቱ በቁጥር ያንሳል?

(2)



፲



፩



በትክክል መልሰዋል። ወደ ቀጣይ ጥያቄ ይሂዱ።

<https://drmegaeducationcenter.org/>



በትክክል አልመለሱም። የጎላው ቁጥር ሶስት አይደለም። [እንደገና ይሞክሩ።](#)

<https://drmegaeducationcenter.org/>



በትክክል መልሰዋል። ወደ ቀጣይ ጥያቄ ይሂዱ።

<https://drmegaeducationcenter.org/>



በትክክል አልመለሱም። የጎላው ቁጥር አምስት አይደለም። [እንደገና ይሞክሩ።](#)

<https://drmegaeducationcenter.org/>



በትክክል መልሰዋል። ወደ ቀጣይ ጥያቄ ይሂዱ።

<https://drmegaeducationcenter.org/>



በትክክል አልመለሱም። የጎላው ቁጥር አራት አይደለም። [እንደገና ይሞክሩ።](#)

<https://drmegaeducationcenter.org/>



በትክክል መልሰዋል። ወደ ቀጣይ ጥያቄ ይሂዱ።

<https://drmegaeducationcenter.org/>



በትክክል አልመለሱም። የጎላው ቁጥር ሁለት አይደለም። [እንደገና ይሞክሩ።](#)

<https://drmegaeducationcenter.org/>



በትክክል መልሰዋል። ወደ ቀጣይ ጥያቄ ይሂዱ።

<https://drmegaeducationcenter.org/>



በትክክል አልመለሱም። የጎላው ቁጥር ሶስት አይደለም። እንደገና ይሞክሩ።

<https://drmegaeducationcenter.org/>



በትክክል መልሰዋል። ወደ ቀጣይ ጥያቄ ይሂዱ።

<https://drmegaeducationcenter.org/>



በትክክል አልመለሱም። የጎላው ቁጥር ሁለት አይደለም። [እንደገና ይሞክሩ።](#)



በትክክል መልሰዋል። ወደ ቀጣይ ጥያቄ ይሂዱ።



በትክክል አልመለሱም። የጎላው ቁጥር ሶስት አይደለም። [እንደገና ይሞክሩ።](#)



በትክክል መልሰዋል። ወደ ቀጣይ ጥያቄ ይሂዱ።



በትክክል አልመለሱም። የጎላው ቁጥር አራት አይደለም። እንደገና ይሞክሩ።



በትክክል መልሰዋል። ወደ ቀጣይ ጥያቄ ይሂዱ።



በትክክል አልመለሱም። የጎላው ቁጥር ሰስት አይደለም። እንደገና ይሞክሩ።



በትክክል መልሰዋል። ወደ ቀጣይ ጥያቄ ይሂዱ።



በትክክል አልመለሱም። የጎላው ቁጥር አራት አይደለም። [እንደገና ይሞክሩ።](#)



በትክክል መልሰዋል። ወደ ቀጣይ ጥያቄ ይሂዱ።



በትክክል አልመለሱም። የጎላው ቁጥር ሶስት አይደለም። [እንደገና ይሞክሩ።](#)



በትክክል መልሰዋል። ወደ ቀጣይ ጥያቄ ይሂዱ።



<https://drmegaeducationcenter.org/>

በትክክል አልመለሱም። የጎላው ቁጥር ሁለት አይደለም። [እንደገና ይሞክሩ።](#)



<https://drmegaeducationcenter.org/>

በትክክል መልሰዋል። ወደ ቀጣይ ጥያቄ ይሂዱ።



<https://drmegaeducationcenter.org/>

በትክክል አልመለሱም። የጎላው ቁጥር ሁለት አይደለም። [እንደገና ይሞክሩ።](#)



<https://drmegaeducationcenter.org/>

በትክክል መልሰዋል። ወደ ቀጣይ ጥያቄ ይሂዱ።

<https://drmegaeducationcenter.org/>



በትክክል አልመለሱም። የጎላው ቁጥር አራት አይደለም። [እንደገና ይሞክሩ።](#)



በትክክል መልሰዋል። ወደ ቀጣይ ጥያቄ ይሂዱ።

<https://drmegaeducationcenter.org/>



በትክክል አልመለሱም። የጎላው ቁጥር አንድ አይደለም። [እንደገና ይሞክሩ።](#)

<https://drmegaeducationcenter.org/>



በትክክል መልሰዋል። ወደ ቀጣይ ጥያቄ ይሂዱ።

<https://drmegaeducationcenter.org/>



በትክክል አልመለሱም። የጎላው ቁጥር አራት አይደለም። እንደገና ይሞክሩ።

<https://drmegaeducationcenter.org/>



በትክክል መልሰዋል። ወደ ቀጣይ ጥያቄ ይሂዱ።

<https://drmegaeducationcenter.org/>



በትክክል አልመለሱም። ይህ ምስል በቁጥር ያንሳል።



ውስጥ ያለው የከረሜላ ብዛት

እንደገና ይሞክሩ።

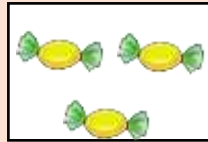


በትክክል መልሰዋል። ወደ ቀጣይ ጥያቄ ይሂዱ።

<https://drmegaeducationcenter.org/>



በትክክል አልመለሱም። ይህ ምስል
በቁጥር ይበልጣል።



ውስጥ ያለው የከረጫ ለብዛት

እንደገና ይሞክሩ።



በትክክል መልሰዋል። ወደ ቀጣይ ጥያቄ ይሂዱ።



በትክክል አልመለሱም። ይህ ምስል
በቁጥር ያንሳል።

እንደገና ይሞክሩ።



ውስጥ ያለው የእርሳስ ብዛት



በትክክል መልሰዋል። ወደ ቀጣይ ጥያቄ ይሂዱ።



በትክክል አልመለሱም። ይህ ምስል

5


 በቁጥር ይበልጣል።
እንደገና ይሞክሩ።



በትክክል መልሰዋል። ወደ ቀጣይ ጥያቄ ይሂዱ።



በትክክል አልመለሱም።ይህ ምስል
እንደገና ይሞክሩ።



ውስጥ ያለው የከረጫላ ብዛት



በትክክል መልሰዋል። ወደ ቀጣይ ጥያቄ ይሂዱ።



በትክክል አልመለሱም። ይህምስል በቁጥር ይበልጣል።
እንደገና ይሞክሩ።




በትክክል መልሰዋል። ወደ ቀጣይ ጥያቄ ይሂዱ።



<https://drmegaeducationcenter.org/>

በትክክል አልመለሱም። ይህ ምስል [እንደገና ይሞክሩ።](#)



ውስጥ ያለው በቁጥር ያንሳል።




<https://drmegaeducationcenter.org/>

በትክክል መልሰዋል። ክፋለ ትምህርት አንድን በሚገባ አጠናቀዋል። ወደ ቀጣዩ ክፍለ ትምህርት ይልፉ።



በትክክል አልመለሱም። ይህምስል ብዛት ቁጥር ይበልጣል።



ውስጥ ያለው የከረሜላ

[እንደገና ይሞክሩ።](https://drnegaeducationcenter.org/)



<https://drmegaeducationcenter.org/>

